
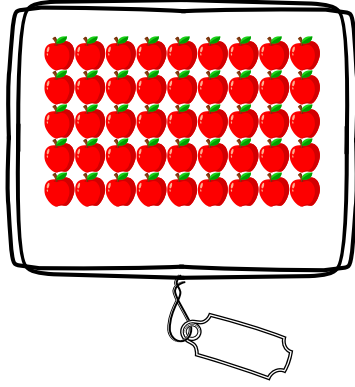



5'er Ritmik Sayma

! Aşağıdaki şekilleri 5'er 5'er sayarak kaç tane olduklarını bulalım.



! 5'er 5'er saydığımız sayıları ellerin içersine yazalım ve kaç parmak olduğunu bulalım.

